

Exercice 1

Compléter les pointillés et les figures :

phrase	Figure
... BK ... est une demi-droite	
..... est	
... BN ... est une demi-droite	
(VP) est	
... ZJ ... est un segment	

Exercice 2

Compléter les pointillés et les figures :

phrase	Figure
(AL) est	
[QA] est	
... PZ ... est une demi-droite	
(NG) est	
..... est	

Exercice 3

Compléter les pointillés et les figures :

phrase	Figure
..... est	
[RG] est	
(GB) est	
[GV] est	
..... est	

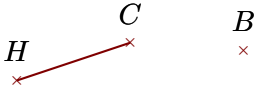

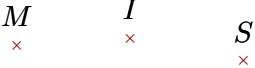
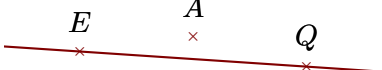
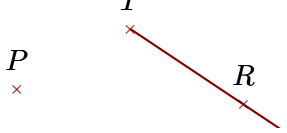
Exercice 4

Compléter les pointillés et les figures :

phrase	Figure
(DF) est	
... XP ... est une demi-droite	
(KN) est	
[QE] est	
[GY) est	

Exercice 5

Compléter les pointillés et les figures :

phrase	Figure
..... est	
... YJ ... est une droite	
... SI ... est une demi-droite	
..... est	
..... est	

Corrigé de l'exercice 1

Compléter les pointillés et les figures :

Phrase	Figure
$[BK)$ est une demi-droite	
$[KZ]$ est un segment	
$[BN)$ est une demi-droite	
(VP) est une droite	
$[ZJ]$ est un segment	

Corrigé de l'exercice 2

Compléter les pointillés et les figures :

Phrase	Figure
(AL) est une droite	
$[QA]$ est un segment	
$[PZ)$ est une demi-droite	
(NG) est une droite	
$[BF]$ est un segment	

Corrigé de l'exercice 3

Compléter les pointillés et les figures :

Phrase	Figure
$[IK)$ est une demi-droite	
$[RG)$ est une demi-droite	
(GB) est une droite	
$[GV]$ est un segment	
(LH) est une droite	

Corrigé de l'exercice 4

Compléter les pointillés et les figures :

Phrase	Figure
(DF) est une droite	
$[XP)$ est une demi-droite	
(KN) est une droite	
$[QE]$ est un segment	
$[GY)$ est une demi-droite	

Corrigé de l'exercice 5

Compléter les pointillés et les figures :

Phrase	Figure
$[CH]$ est un segment	
(YJ) est une droite	
$[SI)$ est une demi-droite	
(EQ) est une droite	
$[TR)$ est une demi-droite	